

ESPACIOS NATURALES

FICHA 20

En un espacio natural de montaña puedes encontrar tres niveles de vegetación.


¿En el que tú has visitado se dan los tres niveles o falta alguno?

¿Cuál es el árbol que más abunda?

Haz una lista con los animales y plantas silvestres que hayas observado o que sepas que viven aquí.

¿Alguno de ellos no está en el dibujo de la ficha 19? ¿Cuál?

Observando los animales y plantas del dibujo de la ficha 20 y sabiendo que unos se alimentan de otros, completa esta cadena alimenticia.



¿Hay algún animal o planta que esté protegido o en peligro de desaparecer?

¿Esta zona natural es muy visitada por la gente?

¿Qué suelen hacer en ella?

¿Dejan señales de su visita? ¿De qué tipo?

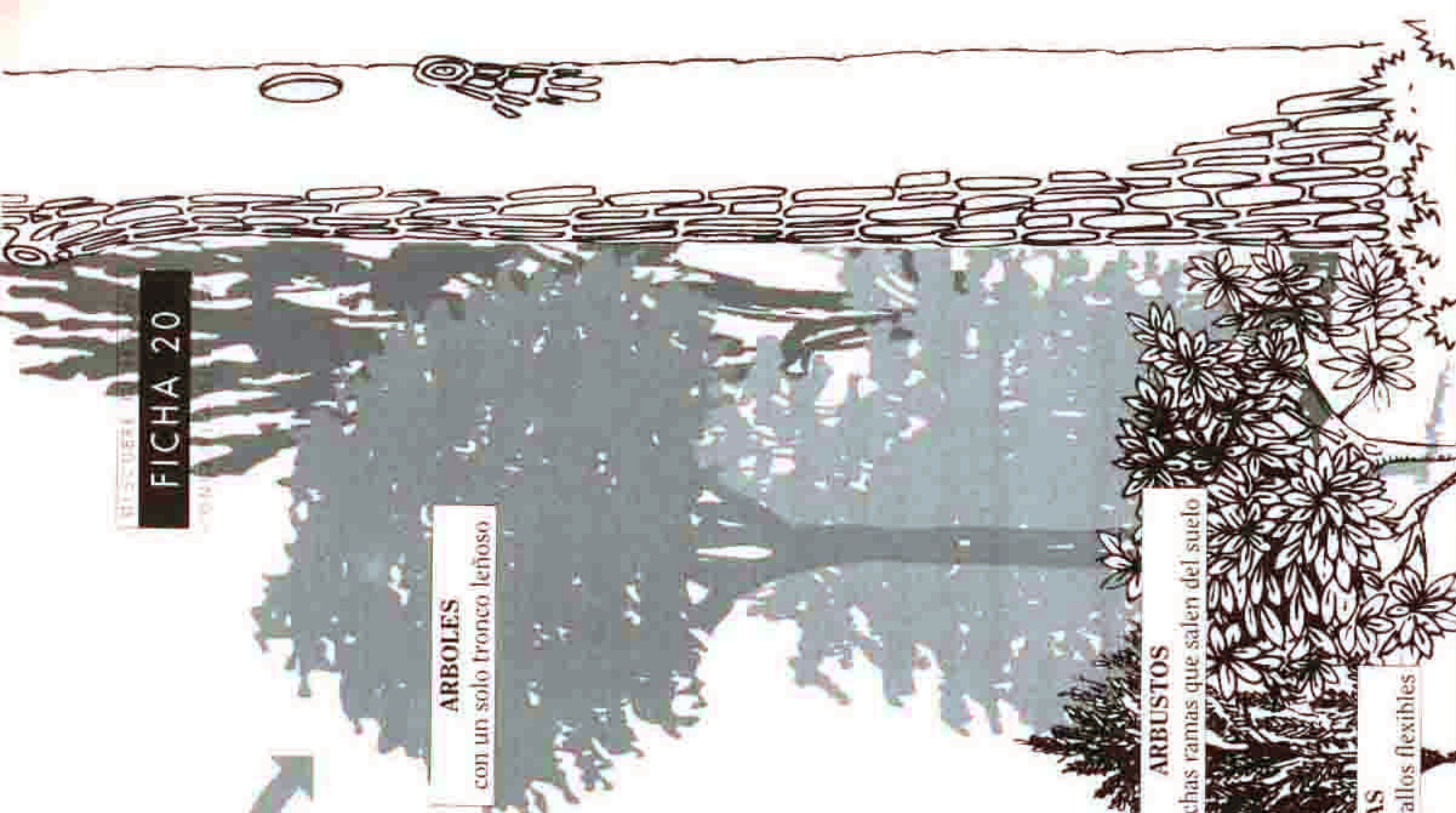
¿Que efectos causan en la naturaleza?

¿Qué aporta la zona natural al pueblo?

ARBOLES
con un solo tronco leñoso

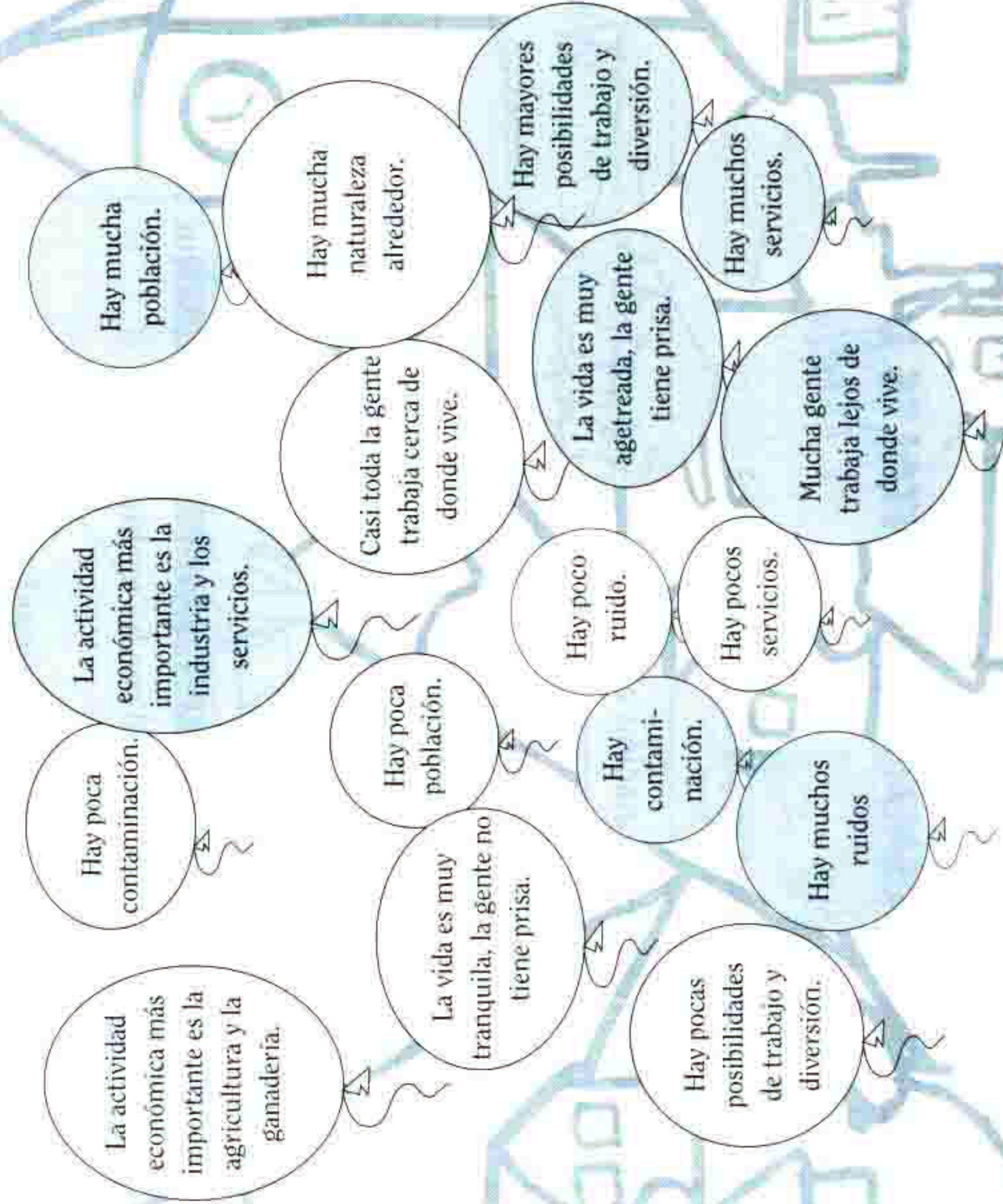
ARBUSTOS
tienen muchas ramas que salen del suelo

HIERBAS
son pequeñas y de tallos flexibles



RELACIONES PUEBLO/CIUDAD

Es frecuente pensar que en los pueblos la forma de vida es **rural** y en las ciudades es **urbana**. En los globos blancos tienes algunas características de la vida rural y en los grises, de la vida urbana. Colorea las que más se parezcan a lo que ocurre en tu pueblo.



¿Las características que has señalado corresponden al modo de vida urbano, al rural o a los dos?

¿Tu pueblo está cerca o lejos de la ciudad de Murcia?

¿Crees que la distancia de la ciudad influye en el modo de vida de la gente?

¿Para qué acude la gente de tu pueblo a la ciudad?

¿La gente que vive en la ciudad visita tu pueblo?

¿Por qué?

Realiza una encuesta a los vecinos y vecinas de tu pueblo para conocer qué opinión tienen de él y si lo prefieren a la ciudad. Escribe aquí los resultados.