

El paisaje de una zona depende mucho del CLIMA, del RELIEVE y de la SITUACION GEOGRAFICA. Lee detenidamente las siguientes preguntas y contesta sin consultar a tu profesor/a.

El clima de tu localidad es:

a) atlántico.

llueve mucho todo el año, los inviernos no son muy fríos ni los veranos muy calurosos.

mediterráneo

llueve poco sobre todo en verano, el invierno es suave y el verano es muy caluroso.

b) de interior.

Mucho calor en verano y mucho frío en invierno, llueve poco.

de montaña.

llueve mucho y hace mucho frío.

El relieve es:

montañoso

muchos cerros y montañas.

muy llano

plano y pocas montañas.

llano con algunos montes

Tu localidad está situada :

en un valle

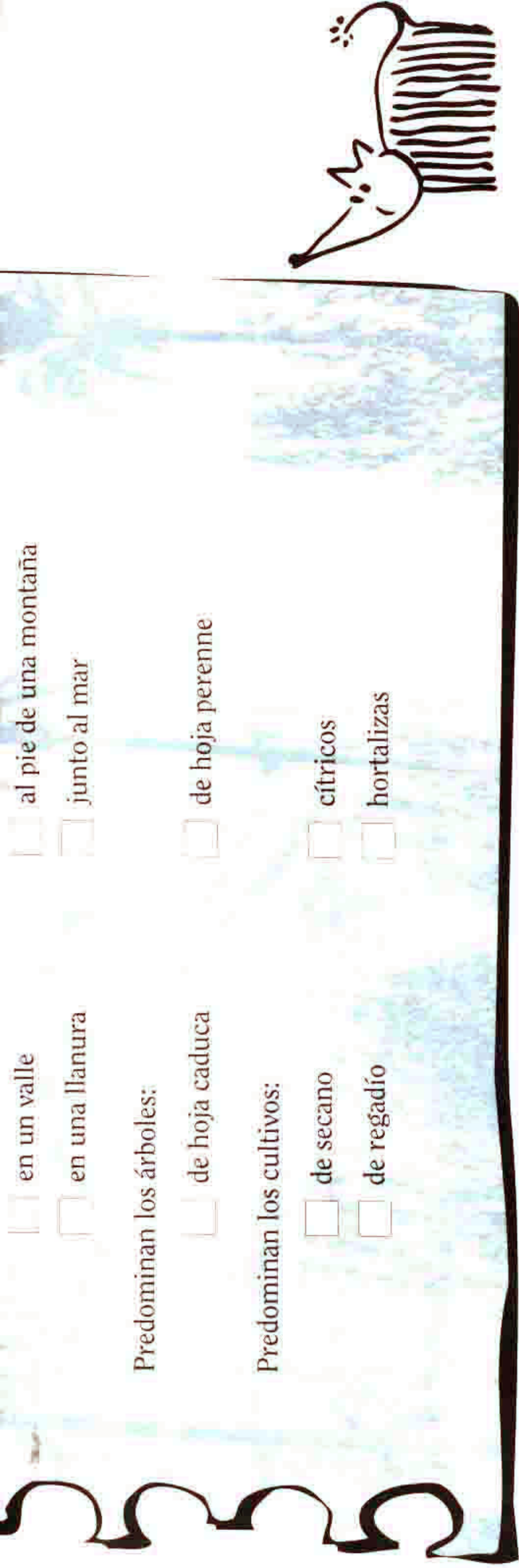
entre cerros y montañas.

al pie de una montaña

en una llanura

junto al mar

Predominan los árboles:



- en un valle
- al pie de una montaña
- en una llanura
- junto al mar

Predominan los árboles:

- de hoja caduca
- de hoja perenne:

Predominan los cultivos:

- de secano
- cítricos
- de regadío
- hortalizas

Rodea con un círculo la fotografía que más se parezca al paisaje de tu localidad.



HUERTA



LITORAL



CAMPO

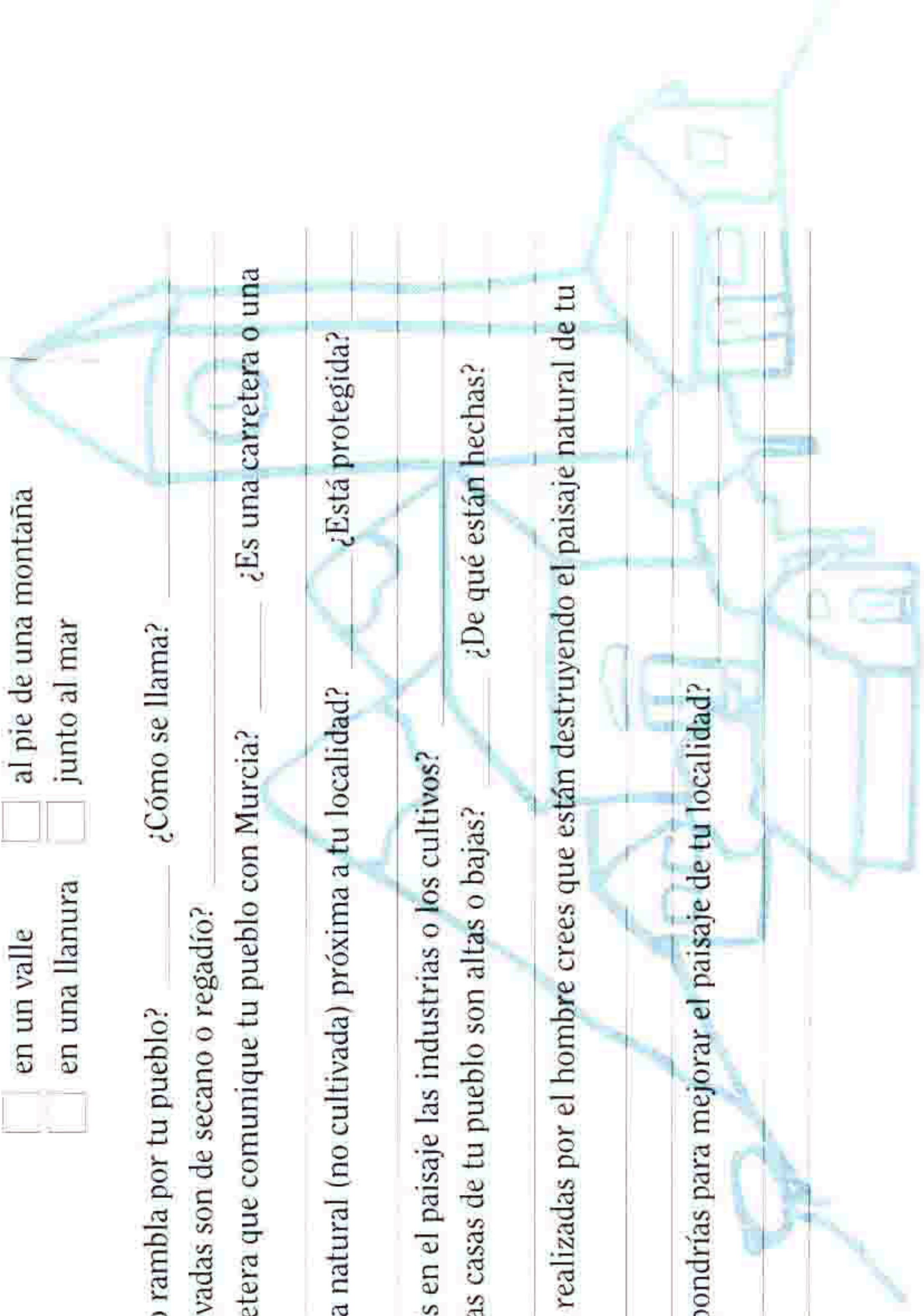
EL PAISAJE DE LA LOCALIDAD DE

DESCUBRE TU PIEDADINA

FICHA 4

COMUNIDAD DE CALZADILLA
SANTO DOMINGO DE SILICE

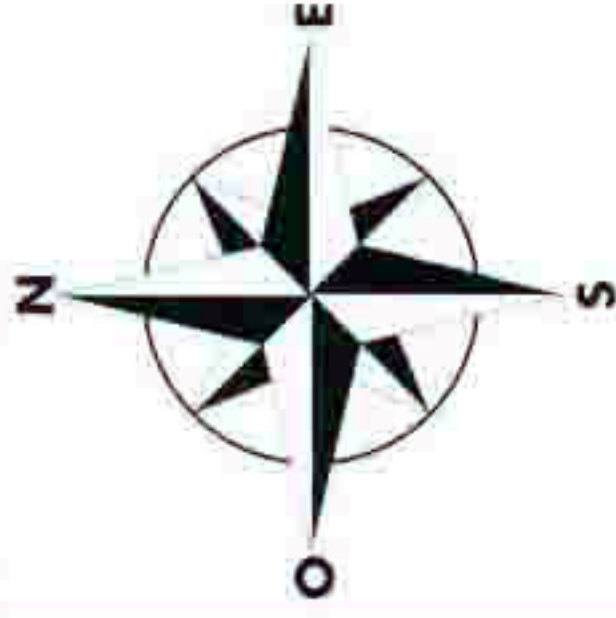
1. ¿El relieve de tu localidad es montañoso o llano? _____
2. Tu pueblo está situado:
 en un valle al pie de una montaña
 en una llanura junto al mar
3. ¿Pasa algún río o rambla por tu pueblo? _____ ¿Cómo se llama? _____
4. ¿Las tierras cultivadas son de secano o regadío? _____
5. ¿Ves alguna carretera que comunique tu pueblo con Murcia? _____ ¿Es una carretera o una autovía? _____
6. ¿Hay alguna zona natural (no cultivada) próxima a tu localidad? _____ ¿Está protegida? ¿Por qué? _____
7. ¿Qué abunda más en el paisaje las industrias o los cultivos? _____
8. ¿La mayoría de las casas de tu pueblo son altas o bajas? _____ ¿De qué están hechas? _____
9. ¿Qué actividades realizadas por el hombre crees que están destruyendo el paisaje natural de tu localidad? _____
10. ¿Qué cosas propondrías para mejorar el paisaje de tu localidad? _____




EL PAISAJE DE LA LOCALIDAD DE

Con ayuda de una brújula o de la posición del sol **ORIENTA** el dibujo.

Observa atentamente el paisaje que tienes frente a tí y en el dibujo, **COLOREA** de rojo el espacio ocupado por las viviendas, de amarillo las fábricas o industrias, de azul el río, el mar o las ramblas y de verde las zonas cultivadas.





- ¿Crees que la gente de tu pueblo vive donde desea? _____ ¿Por qué? _____
- ¿De donde crees que proceden los habitantes: de otras pedanías o de pueblos de la provincia? _____
- ¿La población de tu pueblo, aumenta o disminuye en alguna época del año? _____
¿Por qué? _____
- ¿Qué profesiones son más frecuentes?

<input type="checkbox"/> Agricultores	<input type="checkbox"/> Empleados
<input type="checkbox"/> Comerciantes	<input type="checkbox"/> Parados
- ¿Trabajan más hombres que mujeres? _____
- ¿En que ocupación trabajan más mujeres? _____
- ¿Qué problemas o conflictos sociales se dan en tu pueblo? _____

- ¿Participan los vecinos en resolver estos problemas? _____

